

**DOMANDE SELEZIONE PUBBLICA PER ESAMI CONTRATTO A
TEMPO PIENO E DETERMINATO FINO AL 31/12/2023 DI N. 2 POSTI
FUNZIONARIO TECNICO PROGETTISTA-SPECIALIZ. TRASPORTI
CAT. D (D1) PON METRO 2014/2020 ASSE 8 REACT/EU - PROVA
SCRITTA - BUSTA 2**

-
- 1) **Che cosa si intende per velocità commerciale media?**
- A somma dei rapporti fra la dimensione di un'area commerciale e i tempi medi per servire ogni punto dell'area
 - B rapporto fra una definita distanza e la media dei tempi per percorrerla, inclusi tutti i tempi accessori e le soste necessari a completare il viaggio
 - C la velocità media di un veicolo commerciale all'interno di un interporto
 - D velocità massima che in media raggiunge un veicolo di un sistema di trasporto pubblico
-
- 2) **Dovendo realizzare una rotonda, quale delle seguenti aree sarà più grande?**
- A L'area dello studio
 - B L'area della rotonda
 - C L'area di intervento
 - D Una qualsiasi delle aree zonizzate
-
- 3) **Quale di queste affermazioni su un centroide di una rete di trasporto è errata?**
- A è univoco per ciascuna delle zone considerate
 - B è un nodo teorico in cui terminano gli spostamenti
 - C è un nodo teorico in cui si generano gli spostamenti
 - D è un nodo di collegamento tra archi della rete
-
- 4) **Cosa rappresenta una riga i-esima di una matrice O/D?**
- A Il numero di spostamenti generati nella riga j-esima che si concludono in ciascuna delle zone rappresentate dalle colonne i-esime
 - B La somma di spostamenti generati dalla zona i-esima
 - C Il numero di spostamenti generati dalla zona i-esima che si concludono in ciascuna delle zone rappresentate dalle colonne j-esime
 - D La somma di spostamenti terminati nella zona i-esima
-
- 5) **Quale di questi è il modello di deflusso macroscopico descrittivo più semplice che dà buona corrispondenza con i dati sperimentali?**
- A Modello di Navier-Stokes
 - B Modello di Greenshields
 - C Modello di Pareto
 - D Modello di Modigliani-Miller
-
- 6) **Considerando una linea urbana di bus con tempo di giro di 45 minuti ed una cadenza costante di 15 minuti, quante vetture servono teoricamente per svolgere un'ora di servizio?**
- A 4
 - B 5
 - C 3
 - D 2
-
- 7) **Quali di queste affermazioni su una rampa in ingresso è vera?**
- A La capacità della rampa dipende dal terminale in ingresso
 - B La capacità della rampa è sempre inferiore alla capacità del terminale in uscita
 - C Se la rampa in ingresso termina vicino ad un attraversamento a raso è SEMPRE presente un segnale di STOP
 - D le rampe in ingresso non influenzano mai il flusso veicolare della strada nella quale si immettono
-
- 8) **In una certa sezione stradale passano 6 veicoli pesanti che viaggiano tutti ad una velocità di 60 km/h e 4 auto che viaggiano tutte ad una velocità di 40 km/h. La velocità media (media nello spazio) del flusso veicolare è pari a:**
- A 50 km/h
 - B 45 km/h
 - C 55 km/h
 - D 47 km/h

- 9) **La metropolitana è un sistema di trasporto:**
A ad elevata capacità e regolarità
B a reti variabili ed elevati costi di gestione
C Nessuna delle altre risposte
D a reti fisse ed elevato turnover stagionale
- 10) **Quali di questi problemi NON riguarda la progettazione e la gestione di reti di trasporto pubblico?**
A gestione dei ritardi
B Assegnazione degli oneri di urbanizzazione
C Posizionamento delle fermate
D pianificazione delle tariffe
- 11) **Che cosa si intende per I) capacità e II) livello di servizio di una rete stradale?**
A I): portata minima di una strada II): la qualità del viaggio stimata secondo test psicometrici a cui vengono sottoposti i viaggiatori
B I): valore del flusso massimo attraverso una strada II): applicato alle operazioni di traffico su una strada in esame, si riferisce alla qualità delle condizioni di guida offerte ad un'automobilista
C I): nessuna delle altre risposte II): nessuna delle altre risposte
D I): il numero massimo di viaggiatori che possono defluire dentro una rete di trasporto pubblico II): la probabilità di trovare un mezzo facente parte del servizio pubblico ferroviario a qualsiasi orario
- 12) **in una rete multimodale composta da due tratte, una percorribile sia in automobile che in treno, ed un secondo tratto percorribile sia tramite automobile che con un traghetto, che tipo di politica di gestione della domanda di mobilità si dovrebbe implementare per ridurre l'inquinamento dovuto al traffico veicolare, utilizzando prima una strategia push e poi una pull?**
A Rimuovere il pedaggio autostradale per chi prenderà poi il traghetto con l'automobile
B Offrire gratuitamente il biglietto del traghetto a chi prende l'autostrada
C Diminuire il costo del pedaggio autostradale e del biglietto per il traghetto
D Aumentare il pedaggio del primo tratto autostradale e offrire gratuitamente il trasporto dalla stazione dei treni al porto
- 13) **Le matrici OD per l'analisi dei flussi di spostamento possono essere caratterizzate in funzione delle caratteristiche degli spostamenti rilevanti ai fini dell'analisi. Quali di queste cose NON ha senso tenere in considerazione?**
A modo dello spostamento
B unità temporale di riferimento
C precisione dello spostamento
D periodo di tempo di riferimento
- 14) **In quali di questi casi generalmente si assume che i costi del modello di assegnazione di una rete di trasporti non dipenda dai flussi?**
A assegnazione a domanda variabile
B assegnazione a rete non congestionata
C assegnazione di equilibrio a rete congestionata
D assegnazione a domanda costante
- 15) **La matrice degli effetti, all'interno dell'analisi concordante, prevede:**
A quattro quadranti, di cui due con dati assegnati casualmente per effettuare gli stress test
B lungo la diagonale le alternative da valutare, nei due triangoli i punteggi aggregati
C nelle righe i-esime le funzioni obiettivo e nelle colonne j-esime le alternative da valutare
D nelle righe i-esime i risultati del modello di car-pooling e nelle colonne j-esime le possibili soluzioni
- 16) **Con quale sistema può essere regolato il deflusso da un'intersezione?**
A Rotatoria
B Precedenza a destra
C Tutte le altre risposte sono corrette
D Controllo semaforico
- 17) **Cosa si intende per VMS?**
A Variazione delle metriche stradali
B Veicoli motorizzati a sistema
C Segnale di velocità minima
D Segnali a messaggio variabile
- 18) **Che cos'è TRITONE?**

- A un progetto europeo per l'integrazione di multimodal travelling fra i diversi paesi europei
- B un software di microsimulazione per testare modelli di sistemi di trasporto
- C un software per il project management nella realizzazione dei sistemi di trasporto
- D un modello di macrosimulazione manuale per il controllo rapido dei sistemi di trasporto

19) **Che cosa si intende per vehicular network?**

- A una rete con un flusso veicolato tramite un sistema di multimodal travelling che rispetti gli standard MaaS e gli standard europei per le reti TEN
- B una rete ad archi variabili all'interno di un'infrastruttura di simulazione di incidenti
- C uno standard internazionale per la connessione GPS a bordo dei veicoli
- D sono un tipo di rete emergente che si basa sui veicoli e le loro capacità intelligenti integrate, che comunicano e ricevono dati

20) **Che cosa si intende per interoperabilità fra i sistemi ITS?**

- A La possibilità di dotare qualsiasi veicolo di uno o più sistemi ITS contemporaneamente operativi
- B la necessità, per un sistema ITS, di operare attraverso più point of detection, installati su più veicoli e/o strumenti informatici, ed ottenere un dato in tempo reale, preciso e strutturato indipendentemente dalla mancata funzionalità di uno dei nodi del sistema
- C la capacità di un sistema ITS di cooperare e di scambiare informazioni o servizi con altri sistemi ITS o prodotti in maniera più o meno completa e priva di errori, con affidabilità e con ottimizzazione delle risorse
- D la dotazione di un sistema ITS di una piattaforma nazionale in cui registrare tutti i veicoli operativi nei processi di calcolo di multimodal travelling

21) **Per quale dei seguenti scopi non può essere utile un sistema di contapasseggeri a bordo di un mezzo di trasporto pubblico?**

- A Valutare la corretta posizione di fermata ed apertura delle porte
- B Monitorare il livello di occupazione dei mezzi
- C Valutare la motivazione degli spostamenti
- D Stimare una matrice origine/destinazione degli spostamenti

22) **Quale normativa europea regola gli ITS ed i C-ITS?**

- A Direttiva 2010/40/UE
- B Direttiva 2013/22/UE
- C Direttiva 2019/30/UE
- D Nessuna delle altre risposte

23) **Quali di questi NON è un sistema di navigazione satellitare?**

- A GNPS
- B QZSS
- C EGNOS
- D GALILEO

24) **Cosa sono i FCD?**

- A Dati geolocalizzati su spostamenti pedonali
- B Dati geolocalizzati per il monitoraggio dei trasporti ferroviario
- C Dati geolocalizzati relativi ad automobili in movimento
- D Dati geolocalizzati su flotte bus

25) **Quale finalità ha il collaudo tecnico-amministrativo di un lavoro pubblico per il codice dei contratti?**

- A Il collaudo previsto dal codice dei contratti ha lo scopo di accertare, con adeguate prove, la stabilità della costruzione
- B Il collaudo previsto dal codice dei contratti ha lo scopo di accertare, con adeguate prove, la corretta esecuzione degli impianti realizzati
- C Il codice dei contratti non prevede il collaudo per i lavori pubblici
- D Il collaudo previsto dal codice dei contratti certifica che l'oggetto del contratto in termini di prestazioni, obiettivi e caratteristiche tecniche, economiche e qualitative sia stato realizzato ed eseguito nel rispetto delle previsioni e delle pattuizioni contrattuali

26) **Ai sensi dell'art. 30 del Codice della Strada, la costruzione e la riparazione delle opere di sostegno lungo strade ed autostrade sono entrambe a carico dell'ente proprietario della strada:**

- A qualora esse servano unicamente a difendere ed a sostenere i fondi adiacenti
- B in nessuna circostanza
- C in qualsiasi circostanza
- D qualora abbiano per scopo la stabilità o la conservazione delle strade od autostrade

- 27) **Ai sensi dell'art. 26 del Codice della Strada, per i tratti di strade statali, regionali o provinciali, correnti nell'interno di centri abitati con popolazione inferiore a diecimila abitanti, il rilascio di concessioni e di autorizzazioni è di competenza:**
- A del comune, previo nulla osta dell'ente proprietario
 - B del Ministero dei Trasporti e delle infrastrutture
 - C degli organi di polizia stradale, previo nulla osta del prefetto
 - D del comune, previo nulla osta del Ministero del Turismo
-
- 28) **Quali compiti svolge il responsabile del procedimento (RUP) di appalti pubblici e concessioni**
- A Il RUP svolge tutti i compiti relativi alle procedure di programmazione, progettazione, affidamento ed esecuzione previste dal codice dei contratti, che non siano specificatamente attribuiti ad altri organi o soggetti
 - B Il RUP svolge i soli compiti di progettista e direttore dei lavori di appalti pubblici e concessioni, secondo quanto previsto dal DM 49/2018
 - C Il RUP svolge i soli compiti di coordinamento della sicurezza in fase di progettazione e dell'esecuzione di appalti pubblici e concessioni per tutto il periodo di durata del contratto di appalto o concessione
 - D Il RUP svolge tutti i compiti relativi alle sole procedure di gara per la scelta del contraente di appalti pubblici e concessioni. Il suo compito finisce con la sottoscrizione del contratto.
-
- 29) **Ai sensi dell'art. 14 del Codice della Strada, NON è compito degli enti proprietari delle strade:**
- A il controllo tecnico dell'efficienza delle strade
 - B la manutenzione, gestione e pulizia delle strade
 - C l'apposizione e manutenzione della segnaletica prescritta
 - D l'accertamento delle violazioni in materia di circolazione stradale
-
- 30) **Quali sono i livelli di progettazione previsti dal codice dei contratti (D.lgs. 50/2016)?**
- A Progetto esecutivo e progetto costruttivo
 - B Il codice dei contratti non prevede particolari livelli di progettazione
 - C Progetto preliminare e progetto esecutivo
 - D Progetto di fattibilità, tecnica ed economica, progetto definitivo e progetto esecutivo
-
- 31) **Quale tra le seguenti è una novità introdotta nel Codice della strada dal DL 76/2020, poi convertito in legge 120/2020?**
- A Il senso unico eccetto bici
 - B la strada classificata F-bis
 - C la zona 30
 - D la corsia ciclabile per doppio senso ciclabile
-
- 32) **A quale normativa italiana si fa riferimento quando si parla di BIM?**
- A UNI 1156
 - B UNI 8289
 - C UNI 10415
 - D UNI 11337
-
- 33) **Elencare in ordine di importanza le figure professionali riconosciute nell'ambito BIM**
- A BIM Specialist, BIM Coordinator, BIM Manager, CDE Manager
 - B BIM Worker, BIM Coordinator, BIM Manager
 - C BIM Manager, BIM Specialist, BIM Coordinator
 - D BIM Starter, BIM Worker, BIM Specialist, BIM Manager
-
- 34) **Quante dimensioni contempla l'ambiente BIM?**
- A 1D
 - B 5D
 - C 3D
 - D 7D
-
- 35) **Il Codice dei Contratti pubblici d.lgs. 50/2016 prevede già oggi che le stazioni appaltanti posano richiedere l'utilizzo del BIM per la progettazione di nuove opere?**
- A Sì, le stazioni appaltanti possono richiedere l'utilizzo del BIM per la progettazione di nuove opere purché queste si riferiscano solamente ad opere minori
 - B Sì, l'art. 174 (Subappalti) riporta che le stazioni appaltanti possono richiedere per le nuove opere (e non solo) prioritariamente per i lavori complessi, l'uso dei metodi e strumenti elettronici specifici purché le stazioni appaltanti siano dotate di personale adeguatamente formato
 - C No, non è in alcun modo possibile fare richiesta da parte delle stazioni appaltanti dell'utilizzo del BIM
 - D Sì, l'art. 23 (Livelli della progettazione per gli appalti, per le concessioni di lavori nonché per i servizi) riporta che le stazioni appaltanti possono richiedere per le nuove opere (e non solo) prioritariamente per i lavori complessi, l'uso dei metodi e strumenti elettronici specifici purché le stazioni appaltanti siano dotate di personale adeguatamente formato

- 36) **A decorrere dal 01.01.2022 per quali lavori è già obbligatorio il BIM?**
- A Lavori complessi relativi a opere di importo a base di gara pari o superiore a 100 milioni di euro e/o comunque superiore alla soglia comunitaria di cui all'art. 35 d.lgs 50/2016
 - B Opere di qualsiasi importo
 - C Opere di importo pari o superiore alla soglia comunitaria di cui all'art. 35 d.lgs 50/2016
 - D Il BIM non è obbligatorio, tuttavia sarebbe buona norma usarlo
- 37) **Che cos'è il BIM?**
- A Il BIM indica il sistema collaborativo informativo digitale della costruzione composto dal modello 3D integrato con dati fisici, prestazionali e funzionali dell'edificio
 - B Il BIM è una metodologia di progettazione collaborativa che si pone l'obiettivo di completa gestione di progetti di grandi infrastrutture
 - C Il BIM è un software commerciale finalizzato a studi tecnici operanti nell'edilizia
 - D Il BIM è una metodologia di progettazione individuale che si pone l'obiettivo di completa gestione del progetto architettonico attraverso oggetti intesi come contenitori di informazioni
- 38) **Cosa indica l'acronimo BIM?**
- A Building Information Management
 - B Best Information Multidisciplinary
 - C Building Information Modeling
 - D Buildings and Infrastructures Model
- 39) **Quale parte della norma UNI definisce "Requisiti di conoscenza, abilità e competenza delle figure coinvolte nella gestione della modellazione informativa"**
- A 3
 - B 5
 - C 7
 - D 1
- 40) **Ai sensi dell'art. 41 del D.P.R. 380/2001 s.m.i., in caso di mancato avvio delle procedure di demolizione entro il termine di () dall'accertamento dell'abuso, la competenza è trasferita all'ufficio del prefetto che provvede alla demolizione avvalendosi degli uffici del comune nel cui territorio ricade l'abuso edilizio da demolire, per ogni esigenza tecnico-progettuale.**
- A cento giorni
 - B centottanta giorni
 - C centoquaranta giorni
 - D duecento giorni
- 41) **Ai sensi dell'art. 3 della L.R. 16/2016 s.m.i., nel caso di mancata comunicazione asseverata dell'inizio dei lavori di cui al comma 2 del medesimo articolo comporta:**
- A la sanzione pecuniaria pari a 500 euro. Tale sanzione è ridotta di un terzo se la comunicazione è effettuata spontaneamente quando l'intervento è in corso di esecuzione
 - B la sanzione pecuniaria pari a 2.000 euro. Tale sanzione è ridotta della metà se la comunicazione è effettuata spontaneamente quando l'intervento è in corso di esecuzione
 - C la sanzione pecuniaria pari a 1.000 euro. Tale sanzione è ridotta di due terzi se la comunicazione è effettuata spontaneamente quando l'intervento è in corso di esecuzione
 - D la sanzione pecuniaria pari a 1.500 euro. Tale sanzione è ridotta di tre quarti se la comunicazione è effettuata spontaneamente quando l'intervento è in corso di esecuzione
- 42) **In base all'art. 67 del D.P.R. 380/2001 s.m.i., il collaudo statico:**
- A deve essere eseguito da un ingegnere o da un architetto, iscritto all'albo da almeno cinque anni, che non sia intervenuto in alcun modo nella progettazione, direzione, esecuzione dell'opera
 - B deve essere eseguito da un ingegnere o da un architetto, iscritto all'albo da almeno cinque, anche se intervenuto nella progettazione o realizzazione dell'opera
 - C può essere eseguito da chiunque
 - D deve essere eseguito da un ingegnere o da un architetto, iscritto all'albo da almeno dieci anni, che non sia intervenuto in alcun modo nella progettazione, direzione, esecuzione dell'opera
- 43) **Ai sensi dell'art. 28 della L.R. 16/2016 s.m.i., in relazione alle procedure di condono edilizio, trascorso il termine di () dalla data di deposito della perizia che asseveri la contestuale presenza di tutte le condizioni, i requisiti e i presupposti richiesti dalla legge, senza che sia stato emesso provvedimento con il quale viene assentito o negato il condono, si applica quanto previsto dall'art. 20 della l. 241/90 e successive modificazioni.**
- A 30 giorni
 - B 120 giorni
 - C 90 giorni
 - D 60 giorni




- 44) **In relazione agli interventi di ristrutturazione edilizia in assenza di permesso di costruire o in totale difformità, qualora, sulla base di motivato accertamento dell'ufficio tecnico comunale, il ripristino dello stato dei luoghi non sia possibile:**
- A il dirigente o il responsabile dell'ufficio irroga una sanzione pecuniaria pari alla metà dell'aumento di valore dell'immobile determinato secondo le disposizioni dell'art. 33 del DPR 380/2001
 - B il dirigente o il responsabile dell'ufficio irroga una sanzione pecuniaria pari al triplo dell'aumento di valore dell'immobile determinato secondo le disposizioni dell'art. 33 del DPR 380/2001
 - C il dirigente o il responsabile dell'ufficio irroga una sanzione pecuniaria pari al doppio dell'aumento di valore dell'immobile determinato secondo le disposizioni dell'art. 33 del DPR 380/2001
 - D il dirigente o il responsabile dell'ufficio irroga una sanzione pecuniaria pari al triplo dell'aumento di valore dell'immobile determinato secondo le disposizioni dell'art. 33 della l. 1150/42
-
- 45) **Ai sensi dell'art. 60 del d.lgs. 50/2016 s.m.i., nel caso in cui le amministrazioni aggiudicatrici abbiano pubblicato un avviso di preinformazione che non sia stato usato come mezzo di indizione di una gara, il termine minimo di 35 giorni per la ricezione delle offerte può essere ridotto a (___) purché siano rispettate tutte le condizioni dettate dalla norma. Le amministrazioni aggiudicatrici possono ulteriormente ridurre di (___) il termine di 35 giorni nel caso di presentazione di offerte per via elettronica.**
- A quindici giorni; cinque giorni
 - B venti giorni; dieci giorni
 - C trenta giorni; quindici giorni
 - D dieci giorni; sette giorni
-
- 46) **Su richiesta scritta dell'offerente e del candidato interessato, l'amministrazione aggiudicatrice comunica immediatamente e comunque entro (___) dalla ricezione della richiesta di ogni offerente che abbia presentato un'offerta ammessa in gara e valutata, le caratteristiche e i vantaggi dell'offerta selezionata e il nome dell'offerente cui è stato aggiudicato l'appalto o delle parti dell'accordo quadro.**
- A venti giorni
 - B dieci giorni
 - C quindici giorni
 - D sette giorni
-
- 47) **Ai sensi dell'art. 51 del d.lgs. 50/2016 s.m.i., le stazioni appaltanti possono, anche ove esista la facoltà di presentare offerte per alcuni o per tutti i lotti, limitare il numero di lotti che possono essere aggiudicati a un solo offerente, a condizione che il numero massimo di lotti per offerente sia:**
- A indicato nel sito del Comune di riferimento dell'appalto
 - B indicato nel bando di gara o nell'invito a confermare interesse, a presentare offerte o a negoziare
 - C inferiore a dieci
 - D inferiore a cinque
-
- 48) **Le stazioni appaltanti rendono nota l'intenzione di bandire per l'anno successivo appalti, pubblicando un avviso di preinformazione entro il:**
- A 31 agosto di ogni anno
 - B 31 dicembre di ogni anno
 - C 30 giugno di ogni anno
 - D 30 settembre di ogni anno
-
- 49) **Ai sensi dell'art. 45 del d.lgs. 50/2016 s.m.i., quale tra questi rientra nella definizione di operatore economico?**
- A Gli imprenditori individuali
 - B I soggetti che abbiano stipulato il contratto di gruppo europeo di interesse economico (GEIE) ai sensi del decreto legislativo 23 luglio 1991, n. 240
 - C I consorzi stabili, costituiti anche in forma di società consortili ai sensi dell'articolo 2615-ter del codice civile, tra imprenditori individuali, anche artigiani, società commerciali, società cooperative di produzione e lavoro
 - D Tutte le altre risposte sono corrette
-
- 50) **In relazione all'art. 21 del D.P.R. 327/2001 s.m.i., rubricato "Procedimento di determinazione definitiva dell'indennità di espropriazione", come vengono nominati i tecnici che ci occupano della stima del bene?**
- A Due dall'autorità espropriante, tra cui quello eventualmente già designato dal proprietario, e uno dal presidente del tribunale civile, nella cui circoscrizione si trova il bene da stimare
 - B Tre dall'autorità espropriante, tra cui quello eventualmente già designato dal proprietario, e due dal presidente del tribunale civile, nella cui circoscrizione si trova il bene da stimare
 - C Quattro dall'autorità espropriante, tra cui quello eventualmente già designato dal proprietario, e due dal presidente del tribunale civile, nella cui circoscrizione ha la residenza il proprietario dell'immobile
 - D Cinque dall'autorità espropriante, tra cui quello eventualmente già designato dal proprietario, e tre dal presidente del tribunale civile, nella cui circoscrizione ha la residenza il proprietario dell'immobile
-
- 51) **Ai sensi dell'art. 41 del D.P.R. 327/2001 s.m.i., in ogni provincia, la Regione istituisce una commissione competente alla determinazione dell'indennità definitiva. Chi tra questi ne è un membro?**

- A Il presidente dell'Istituto autonomo delle case popolari della Provincia o un suo delegato
- B Tutte le altre risposte sono corrette
- C Due esperti in materia urbanistica ed edilizia, nominati dalla Regione
- D Il presidente della Provincia o un suo delegato

-
- 52) **Ai sensi dell'art. 24 del D.P.R. 327/2001 s.m.i., l'esecuzione del decreto di esproprio ha luogo:**
- A per iniziativa dell'autorità espropriante o del suo beneficiario, con il verbale di immissione in possesso, entro il termine perentorio di cinque anni
 - B solo per iniziativa dell'autorità espropriante, con il verbale di immissione in possesso, entro il termine perentorio di due anni
 - C per iniziativa dell'autorità espropriante o del suo beneficiario, con il verbale di immissione in possesso, entro il termine perentorio di due anni
 - D solo per iniziativa del beneficiario, con il verbale di immissione in possesso, entro il termine perentorio di due anni
-
- 53) **Ai sensi dell'art. 20 del D.P.R. 327/2001 s.m.i., qualora abbia condiviso la determinazione dell'indennità di espropriazione:**
- A il proprietario è tenuto a consentire all'autorità espropriante che ne faccia richiesta l'immissione nel possesso. In tal caso, il proprietario ha diritto a ricevere un acconto del 60 per cento dell'indennità, previa autocertificazione, attestante la piena e libera proprietà del bene.
 - B il proprietario è tenuto a consentire all'autorità espropriante che ne faccia richiesta l'immissione nel possesso. In tal caso, il proprietario ha diritto a ricevere un acconto dell'80 per cento dell'indennità, previa autocertificazione, attestante la piena e libera proprietà del bene.
 - C il proprietario è tenuto a consentire all'autorità espropriante che ne faccia richiesta l'immissione nel possesso. In tal caso, il proprietario ha diritto a ricevere un acconto del 50 per cento dell'indennità, previa autocertificazione, attestante la piena e libera proprietà del bene.
 - D il proprietario è tenuto a consentire all'autorità espropriante che ne faccia richiesta l'immissione nel possesso. In tal caso, il proprietario ha diritto a ricevere un acconto del 70 per cento dell'indennità, previa autocertificazione, attestante la piena e libera proprietà del bene.
-
- 54) **Ai sensi dell'art. 23 del D.P.R. 327/2001, un estratto del decreto di esproprio è trasmesso entro (___) giorni per la pubblicazione nella Gazzetta Ufficiale della Repubblica o nel Bollettino Ufficiale della Regione nel cui territorio si trova il bene.**
- A venti
 - B dieci
 - C cinque
 - D trenta
-
- 55) **In inglese "to dream" significa:**
- A bere
 - B sognare
 - C fare
 - D dimorare
-
- 56) **"Marc ... a ticket."**
- A haves
 - B has
 - C have
 - D hat
-
- 57) **"Mary ... John."**
- A loves
 - B loven
 - C to love
 - D love
-
- 58) **Quale dei seguenti non è un oggetto di Microsoft Access?**
- A grafico
 - B report
 - C maschera
 - D query
-
- 59) **Excel è un applicazione di permette di:**
- A Creare file audio
 - B Elaborare immagini
 - C Produrre e gestire fogli elettronici
 - D Creare un database

60) Indicare quale delle seguenti affermazioni è vera.

- A PowerPoint è un programma per la gestione di database
- B PowerPoint è un programma che serve solo a creare PDF
- C PowerPoint è un programma utilizzato per grafici e tabelle
- D PowerPoint è un programma che fa parte del pacchetto office



M. C. J.
Pagina 8 di 8